

Код 36 265.
= 40%
принтер

Школьный тур олимпиады по географии 2.0.345.
5 класс. 2019 год
(все задания выполняются без использования атласов)
Время выполнения 45 минут.

Тестовый тур

Выберите правильный ответ. За каждый верный ответ – 1 балл.

- 0 1. Что означает в переводе слово «география»?
а) изучение Земли б) описание Земли
в) использование Земли г) преобразование Земли — 0 1-5
- 1 2. Какое животное лишнее в этом списке:
а) белый медведь б) северный олень в) пингвин г) полярная сова + 2-6
- 1 3. Что не является планетой?
а) Сатурн б) Меркурий в) Солнце г) Земля + 3-6
- 0 4. Кем была написана первая книга по географии?
а) Геродотом б) Аристотелем в) Эратосфеном г) Птолемеем — 4-6
- 0 5. Назови самый большой океан?
а) Индийский б) Северный Ледовитый
в) Тихий г) Атлантический — 5-6
- 0 6. Если встать лицом на север, то по правую руку у нас будет:
а) запад б) восток в) юг г) север — 6-5
- 1 7. Испарение воды – это явление:
а) механическое б) тепловое + 7-5
в) электрическое г) световое
- 1 8. Какое место надо выбрать для костра, чтобы не навредить природе?
а) открытую поляну б) берег реки + 8-5
в) одиноко стоящее дерево г) березовую рощу
- 0 9. Какие вещества входят в состав воздуха?
а) водород, углекислый газ, кислород — 9-5
б) кислород, азот, углекислый газ
в) фтор, углекислый газ, кислород
- 1 10. Смена дня и ночи на Земле объясняется?
а) движением Земли вокруг своей оси + 10-2
б) движением Земли вокруг Солнца
в) суточной ритмикой географической оболочки
г) изменением наклона земной оси к плоскости орбиты
- 0 11. Какое средство Джеймс Кук стал использовать против цинги на своих судах?
а) квашеную капусту б) доброе слово — 11-2
в) яблоки г) индейские пряности
- 1 12. Выберите неверное утверждение:
а) при ударе крупных метеоритов о земную поверхность возникают метеоритные кратеры:
б) на поверхности Земли кратеров больше, чем на поверхности Луны; — 12-5
в) Космос постоянно оказывает на Землю видимое и невидимое воздействие;
г) хвосты комет направлены в сторону, противоположную от Солнца.
- 1 13. Вулкан обычно представляет собой:
а) углубление на поверхности земли б) ровную поверхность + 13-6
в) гору г) холм.
14. Назовите самый большой материк на Земле

- а) Африка б) Антарктида
 в) Евразия г) Австралия

15. Воздух на Земле образует оболочку, получившую название:

- а) биосфера б) литосфера
 в) атмосфера г) гидросфера

1 + 14-6
 1 + 15-6

Теоретический тур

15. Определите, сколько часов длился «кругосветный» полёт по экватору со скоростью 1000 км/ч, если длина экватора составляет 40000 км.

40 часов

40000 / 1000
 40ч

0 ✓



16. Юля очень любит путешествовать по странам. Возвращаясь домой, она всегда привозит на память сувенирный магнит. Определите по магниту, в какой стране побывала Юля.






в Австралии

25. X



17. Разгадайте ребус (это название географической науки)

Глициния

1	”	2,4	2,3,4	3
				

35. +.

18. О чем идет речь в стихотворении?

Бывало, в сказках старый столб
 Вещал богатырям:
 Пойдешь направо – конь падет,
 Налево – сгинешь сам,
 А прямо – ждет тебя успех на
 Всем твоим пути!
 А что поможет вам теперь путь
 Правильный найти?
 Расскажет, что, и почему, и где в

Пути вас ждет,
Как только дружный ваш отряд
Отправится в поход?

о дружбе

0. Карта

19. Заполните недостающую информацию в таблице «Природные зоны», используя следующую информацию.

№1	№2	№3
Природная зона (впишите название)	«Образное выражение»	Признак (впишите соответствующий номер)
Арктическая пустыня	«море льда»	2. 1 ✓
тундра Степь	«море мха»	1. 1 ✓
тайга	«море деревьев»	5. 1 ✓
Степь тундра	«море травы»	4. 1 ✓
пустыня	«море песка»	3. 1 ✓

Для №1 – пустыня, тундра, степь, тайга, арктическая пустыня

Для №3: 1) холодная безлесная болотистая равнина; 2) месяцами длится полярная ночь; 3) растения замирают летом; 4) почва богата перегноем; 5) многоярусная растительность

20.

1) Какая из этих природных зон является самой большой по площади в России?

Тайга

1 ✓

2) Какая из этих природных зон занимает в России наименьшую площадь?

Тундра

0 ✓

3) Какая из этих природных зон наиболее изменена человеком?

Степь

1 ✓

265.

Школьный тур олимпиады по географии
5 класс. 2019 год
(все задания выполняются без использования атласов)
Время выполнения 45 минут.

29

240,

64,8%

призер

Тестовый тур

Выберите правильный ответ. За каждый верный ответ – 1 балл.

1. Что означает в переводе слово «география»?

- а) изучение Земли б) описание Земли
в) использование Земли г) преобразование Земли

+1

2. Какое животное лишнее в этом списке:

- а) белый медведь б) северный олень в) пингвин г) полярная сова

+1

3. Что не является планетой?

- а) Сатурн б) Меркурий в) Солнце г) Земля

+1

4. Кем была написана первая книга по географии?

- а) Геродотом б) Аристотелем в) Эратосфеном г) Птолемеем

+1

5. Назови самый большой океан?

- а) Индийский б) Северный Ледовитый
 в) Тихий г) Атлантический

+1

6. Если встать лицом на север, то по правую руку у нас будет:

- а) запад б) восток в) юг г) север

-0

7. Испарение воды – это явление:

- а) механическое б) тепловое
в) электрическое г) световое

+1

8. Какое место надо выбрать для костра, чтобы не навредить природе?

- а) открытую поляну б) берег реки
в) одиноко стоящее дерево г) березовую рощу

-0

9. Какие вещества входят в состав воздуха?

- а) водород, углекислый газ, кислород
б) кислород, азот, углекислый газ
в) фтор, углекислый газ, кислород

-0

10. Смена дня и ночи на Земле объясняется?

- а) движением Земли вокруг своей оси
б) движением Земли вокруг Солнца
в) суточной ритмикой географической оболочки
г) изменением наклона земной оси к плоскости орбиты

+1

11. Какое средство Джеймс Кук стал использовать против цинги на своих судах?

- а) квашеную капусту б) доброе слово
 в) яблоки г) индейские пряности

-0

12. Выберите неверное утверждение:

- а) при ударе крупных метеоритов о земную поверхность возникают метеоритные кратеры;
 б) на поверхности Земли кратеров больше, чем на поверхности Луны;
в) Космос постоянно оказывает на Землю видимое и невидимое воздействие;
г) хвосты комет направлены в сторону, противоположную от Солнца.

+1

13. Вулкан обычно представляет собой:

- а) углубление на поверхности земли б) ровную поверхность
в) гору г) холм.

-0

14. Назовите самый большой материк на Земле

а) Африка б) Антарктида

в) Евразия г) Австралия

29 +1

15. Воздух на Земле образует оболочку, получившую название:

а) биосфера б) литосфера

в) атмосфера г) гидросфера

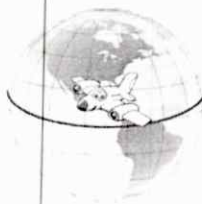
+1

Теоретический тур

15. Определите, сколько часов длился «кругосветный» полёт по экватору со скоростью 1000 км/ч, если длина экватора составляет 40000 км.

2560ч.

0



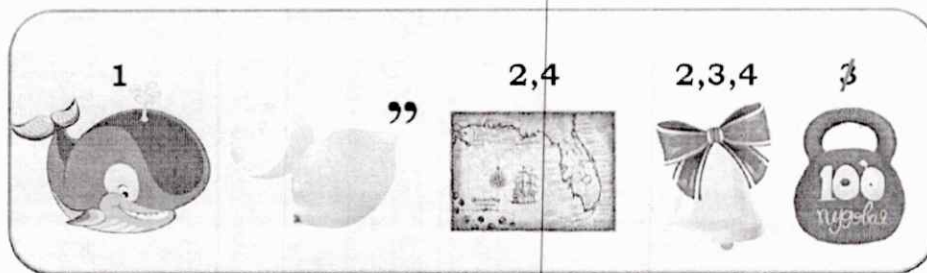
16. Юля очень любит путешествовать по странам. Возвращаясь домой, она всегда привозит на память сувенирный магнит. Определите по магниту, в какой стране побывала Юля.

Австралия. Кенгуру

+2



17. Разгадайте ребус (это название географической науки)



35
Климатология +?

18. О чем идет речь в стихотворении?

Бывало, в сказках старый столб
Вещал богатырям:
Пойдешь направо – конь падет,
Налево – сгинешь сам,
А прямо – ждет тебя успех на
Всем твоим пути!
А что поможет вам теперь путь
Правильный найти?
Расскажет, что, и почему, и где в

Пути вас ждет,
Как только дружный ваш отряд
Отправится в поход?

указатель

29
09

19. Заполните недостающую информацию в таблице «Природные зоны», используя следующую информацию.

№1	№2	№3
Природная зона (впишите название)	«Образное выражение»	Признак (впишите соответствующий номер)
арктическая пус. 1+	«море льда»	2 + 1
тундра 1+	«море мха»	5 0
тайга 1+	«море деревьев»	3 0
степь 1+	«море травы»	1 0
Пустыня 1+	«море песка»	4 0

Для № 1 – пустыня, тундра, степь, тайга, арктическая пустыня

Для № 3: 1) холодная безлесная болотистая равнина; 2) месяцами длится полярная ночь; 3) растения замирают летом; 4) почва богата перегноем; 5) многоярусная растительность

20.

1) Какая из этих природных зон является самой большой по площади в России?

Тайга

+ 1

2) Какая из этих природных зон занимает в России наименьшую площадь?

Пустыня

+ 1

3) Какая из этих природных зон наиболее изменена человеком?

Степь

+ 1

248.

36 - 0

Школьный тур олимпиады по географии
7 класс. 2019 год (все задания выполняются без использования атласов).
Время выполнения 45 минут.

336
66

Часть 1. Тест

1. Какое утверждение о земной коре верно?

- а) Земная кора под материками и океанами имеет одинаковое строение.
б) Под океанами мощность земной коры больше, чем под материками.
в) Границы литосферных плит совпадают с контурами материков.
г) Литосферные плиты медленно перемещаются по поверхности мантии.

пример

1 66

2. Какое кругосветное авиапутешествие будет короче?

- а) по экватору
б) по параллели 70°
в) по параллели 40°
г) по начальному меридиану

3. Каким прибором на современных кораблях измеряют глубину моря?

- а) сейсмограф
б) эхолот
в) веревка с грузом
г) барограф

4. Какой будет масштаб плана местности, если линия, длина которой на местности составляет 24 км, представлена на плане местности отрезком длиной 3 см:

- а) 1:8000 б) 1:850 000
в) 1:800000 г) 1:240000

5. В каком океане расположены Канарские острова?

- а) Атлантическом
б) Индийском
в) Тихом
г) Северном Ледовитом.

6. Линии, соединяющие точки с одинаковыми высотами, называют:

- а) изотермы
б) изобары
в) горизонтали
г) градусная сетка

7. Во время своего путешествия Саргассово море открыл.....

- а) Х. Колумб б) Васко да Гама в) Ф. Магеллан.

8. Экспедиция В. Беринга впервые достигла берегов:

- а) Антарктиды
б) Камчатки
в) Аляски
г) Австралии.

9. Когда на всем земном шаре продолжительность дня равна продолжительности ночи?

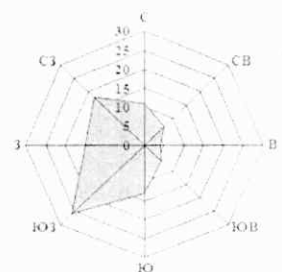
- а) 22 декабря
б) 21 марта
в) 22 июня
г) 23 ноября

10. Укажите ответ, где значение амплитуды температуры воздуха будет минимальной:

- а) -16°C и +16°C
б) +3 °C и +33°C
в) -4°C и +17°C
г) -2°C и +20°C

11. Какое направление ветра преобладает в данном населенном пункте?

- а) восточное
б) северо-западное



1

- В) юго-западное
Г) южное

12. За 6 часов Земля поворачивается вокруг своей оси на

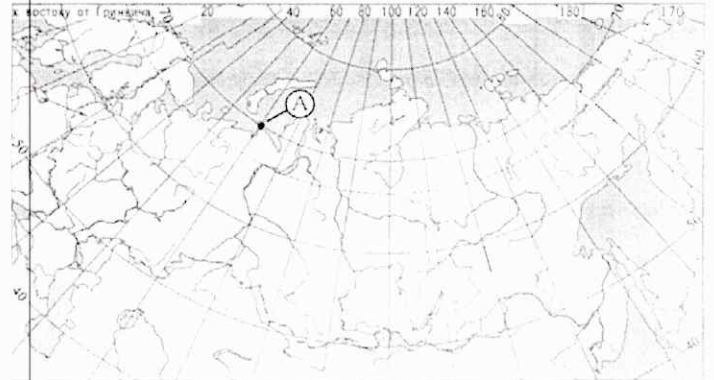
- а) 12° б) 36° в) 60° Г) 90°

13. Какова температура воздуха на вершине гор, если у их подножия температура составила $+16$ градусов, а относительная высота гор составляет 2000 м

- а) 10 градусов в) 0 градусов
б) 4 градуса г) -2 градуса

14. Какие географические координаты имеет точка, обозначенная на карте России буквой А?


- а) 70° с.ш. 60° в.д.
б) 60° с.ш. 70° в.д.
в) 70° с.ш. 60° з.д.
Г) 60° с.ш. 70° з.д.



15. Земля вращается вокруг своей оси (если смотреть со стороны Северного полюса):

- а) с запада на восток б) с востока на запад

16. В мультфильме «Зима в Простоквашино» машина Дяди Федора застряла в яме. А как такую форму рельефа показывают на топографических картах?



17. Облака от поверхности Земли сменяются в следующем порядке

- а) слоистые, кучевые, перистые в) кучевые, перистые, слоистые
б) кучевые, слоистые, перистые Г) слоистые, перистые, кучевые

18. Ближе всего к центру Земли будет находиться человек, который стоит

- а) на экваторе в) на Северном полюсе
б) на Северном тропике г) на Южном тропике

19. Только заливами являются:

- а) Гвинейский, Босфор в) Мексиканский, Магелланов
б) Бенгальский, Персидский г) Гибралтарский, Бискайский

20. Как называется кратковременное повышение уровня воды в реке в результате обильных дождей?

- а) межень в) паводок
б) наводнение г) половодье

О чём говорил океанолог М.Ф.Морис: «В океане есть река. Она не пересыхает в самые сильные засухи, не выходит из берегов...Её берега и ложе из холодной воды, а её стремнина из тёплой»? Дайте полный ответ. Течение Гольф Стрит +35

Задание 2.

Из пункта А одновременно выехали два мотоциклиста. Один со средней скоростью 60 км/ч - в пункт В, другой со средней скоростью 68 км/ч - в пункт С. Кто приедет первым, если на карте с масштабом 1:1000000 расстояние между пунктами А. и В. равно 15 см, а между пунктами А и С - 20 см 4 мм? Первый мотоциклист приедет первым. +? Нет решения 35.

Задание 3.

«Самый, самый» (мировые рекорды)

- 1) самая длинная река Нил ✓ 1
- 2) самая высокая вершина Джомолунгма ✓ 1
- 3) самая большая низменность Амазонская ✓ 1
- 4) самый высокий водопад Ангелс ✓ 1
- 5) самое глубокое озеро Байкал ✓ 1
- 6) самый холодный материк Антарктида ✓ 1
- 7) самый широкий пролив Дрейка ✓ 1
- 8) самое большое озеро Каспийское море ✓ 1
- 9) самый маленький материк Австралия ✓ 1
- 10) самое соленое место в Мировом океане Красное море 0

Задание 4.

Определите, о ком из путешественников (географов) идёт речь?

1. Мореплаватель, который задумал, но не смог до конца совершить первое кругосветное путешествие. Это путешествие доказало наличие единого Мирового океана и шарообразности Земли. Васко Да Гама 0
2. Российские мореплаватели, совершившие первую русскую кругосветную экспедицию на кораблях «Надежда» и «Нева». Фадей Беренгауэр, Михаил Лазарев Иван, Юрий ? 0
3. Итальянский путешественник, исследователь Китая, Индии. Первым наиболее подробно описал Азию Марко Поло ✓ 1
4. Российский мореплаватели, первооткрыватели Антарктиды. Фадей Фадеевич Беренгауэр ✓ 1
5. Английский мореплаватель. Возглавлял три кругосветных экспедиции, открыл множество островов в Тихом океане. Джеймс Кук ✓ 1

Задание 5.

Решите географическую задачу.

Ученик Ваня Степочкин не подготовил домашнее задание ни по одному предмету. Всем учителям он объяснил, что вчера после уроков, прогуливаясь по пляжу, он увидел, как ветер уносит в открытое море маленькую девочку на надувном матрасе. Естественно, он бросился ее спасать, ну, а после случившегося, ему уже было не до уроков. Все учителя его похвалили, кроме учителя географии. Что заставило учителя географии усомниться в искренности

мальчика? Дневной бриз будет с моря на сушу, а не на обрат. слов

✓ 0 4/6

Школьный тур олимпиады по географии
8 класс. 2019 год (все задания выполняются без использования атласов).

Время выполнения 45 минут.

1. Выберите строку, в которой перечислены только части света.

- а) Азия, Северная Америка, Южная Америка
- б) Африка, Азия, Америка, Антарктида
- в) Южная Америка, Австралия, Европа
- г) Евразия, Антарктида, Африка

1

2. Выберите моря, которыми Россия омывается на севере:

- а) Охотское, Японское, Черное б) Лаптевых, Азовское, Берингово
- в) Белое, Баренцево, Карское, г) Балтийское, Чукотское, Белое

1

3. Какой населённый пункт России известен благодаря платкам с ярким рисунком?

- а) Павловский Посад б) Гжель в) Городец г) Жостово

1

4. Н.М. Пржевальский исследовал:

- а) Чукотку б) Центральную Азию в) Центральную Европу г) Центральную Америку

1

5. Иглу является традиционным жилищем:

- а) индейцев б) эскимосов в) чукчей г) папуасов

1

6. Чем знаменит населённый пункт Черепунджи?

- а) Там выпадает очень мало осадков.
- б) Там отмечены очень низкие температуры воздуха.
- в) Там выпадает большое количество осадков.
- г) Там отмечены очень высокие температуры воздуха

1

7. Самая высокая точка России –

- а) г. Эльбрус б) г. Народная в) г. Мунку – Сардык г) г. Ямантау

1

8. Старое название Урала:

- а) Длинные горы б) Восточные горы в) Высокий пояс г) Каменный пояс

1

9. Выберите материк, на котором обитает страус эму.

- а) Африка б) Евразия в) Австралия г) Южная Америка

1

10. Какая страна находится в Южной Америке?

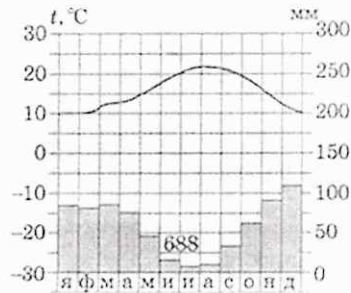
- а) Мьянма б) Мексика в) Лесото г) Эквадор

1

11. Какая амплитуда колебаний температур верная?

- а) 5°
- б) 10°
- в) 12°
- г) 20°

1



12) Укажите номера стран, к которым относится информация:

- Здесь находится резиденция Деда Мороза Россия
- Родина Николая Коперника _____
- Здесь находится Пизанская башня Италия
- Местные жители называют страну Суоми – «страна болот» _____
- Народный танец называется Тарантелла Италия
- «Страна льда и огня» Канада
- Родина Ф.Нансена, Р.Амундсена, Т.Хейердала _____
- Столица расположена на берегах реки Сены _____

1
0
1
0
0
0
0
0

13. Ниже приводятся стихотворные строки А. Усачева, И. Данилова, А. Шауки (египетский поэт), С. Беляева. Некоторые географические названия пропущены (напечатана линия). Напишите эти слова. Обратите внимание: строки должны рифмоваться.

<p>1) Есть в Южной Америке горы-гиганты. Они называются кратко <u>Анды</u>. ✓ 1</p>	<p>3) В ожерелье снежных сопок, В алом зареве рябин. На заре российских тропок Распростёрся <u>Сахалин</u>. ✓ 1 Продуваемый норд-остом, С горьким запахом волны, Распростёрся чудо-остров На четыре стороны...</p>	<p>5) Известно всем: есть мыс Лопатка На полуострове <u>Камчатка</u>. ✓ 1</p>
<p>2) На Земле нет выше места, Чем вершина <u>Эвереста</u>. ✓ Заберись на <u>Эверест</u>. ✓ 1 И увидишь всё окрест.</p>	<p>4) Как сладость надежды, нам влага его дорога. Как амбра, смуглы и душисты его берега. Пусть мутен и глинист – он райские реки затмил. Святой, полноводный, извечный кормилец наш <u>Вода</u>. ✓ 1</p>	<p>6) Взревел мотор... Лечу под облаками. А под крылом родного края ширь: То синими целинными полями. То белыми Саянскими хребтами Меня встречает вешняя <u>Весна</u>. 0</p>

14. Определите, о ком из путешественников (географов) идёт речь?






- Мореплаватель, который задумал, но не смог до конца совершить первое кругосветное путешествие. Это путешествие доказало наличие единого Мирового океана и шарообразности Земли. Фернан Магеллан ✓ 1
 - Российский купец - путешественник, совершивший поход за три моря в Индию Афанасий Никитин ✓ 1
 - Итальянский путешественник, исследователь Китая, Индии. Первым наиболее подробно описал Азию Васко да Гама 0
 - Российские мореплаватели, первооткрыватели Антарктиды Лазарев и Беллинсгаузен ✓
 - Английский мореплаватель. Возглавлял три кругосветных экспедиции, открыл множество островов в Тихом океане. Джеймс Кук ✓ 1
- (за каждый верный ответ 1 балл)

15. Подберите пару: природная зона – растение:

- | | |
|--------------------------|----------------|
| 1) Тундра | а) ковыль |
| 2) Тайга | б) акация |
| 3) Саванна | в) каштан |
| 4) Широколиственные леса | г) ягель |
| 5) Степь | е) лиственница |

1	2	3	4	5
2 ✓ 1	2 ✓ 1	3 ✓ 1	4 ✓ 1	5 ✓ 1

16. Определите по фрагментам контурных карт географические объекты, обозначенные знаком «?».

 <p>А <u>Мексиканский залив</u> ✓ 2</p>	 <p>В <u>Бриггов трапв</u> ✓ 2</p>
 <p>Б <u>Кл и Красная горе</u> ✓ 2</p>	 <p>Г <u>0</u></p>
 <p>Д <u>0</u></p>	 <p>Е <u>0. Новая земля</u> ✓ 2</p>

17. Отгадайте страну по описанию

Название страны в переводе с языка одного из индейских племен означает «селение». Большая часть территории покрыта лесами, в основном хвойными (ель, пихта, сосна), но встречаются и лиственные (береза, осина, тополь). На юге леса богаче: вместе с хвойными растут желтая береза, сахарный клен и др. Сладкий сок сахарного клена долгое время заменял местному населению сахар. С приходом европейцев богатый животный мир страны был почти полностью уничтожен. Особенно пострадали популяции бобров, оленей, бизонов. Америка ✓

335.

74 325.
64%

Школьный тур олимпиады по географии
11 класс 2019 год (все задания выполняются без использования атласов)
Время выполнения 45 минут.

принтер.

Тестовый тур

1. Монархиями в Европе являются:

- ✓ A) Швеция, Нидерланды ~~Б) Венгрия, Румыния~~
✓ ~~В) Италия, Швейцария~~ Г) Австрия, Чехия

2. Укажите страну, в которой наиболее остро стоит проблема курдов:

- ✓ A) Турция Б) Азербайджан ~~В) Иран~~ Г) Израиль

3. Укажите ошибку в перечне главных грузопотоков газа:

- ✓ A) Россия → Европа Б) Алжир → Западная Европа
✓ ~~В) ЮАР → Япония~~ Г) Канада → США

4. Наибольшее по площади островное государство:

- ✓ ~~А) Индонезия~~ Б) Исландия В) Шри-Ланка Г) Куба

5. В какой стране младенческая смертность максимальна:

- ✓ A) Индия Б) Китай В) Иран ~~Г) Афганистан~~

6. На территории, какой из перечисленных стран землетрясения наиболее вероятны?

- ✓ ~~А) Канада~~ Б) Польша В) Италия Г) Белоруссия

7. Найдите единственную страну, в которой минимальны предпосылки для межрелигиозных или межэтнических конфликтов:

- ✓ A) Великобритания Б) Индия ~~В) Япония~~ Г) Турция

8. Выберите вариант, в котором все страны имеют низкую плотность населения:

- ✓ ~~А) Монголия, Австралия, Мавритания~~
B) Саудовская Аравия, Уругвай, Великобритания
V Индия, Вьетнам, Ирак
Г) Казахстан, Япония, Китай

9. Какая страна производит дешевую электроэнергию, экспортирует нефть и газ:

- ✓ A) США Б) Германия ~~В) Норвегия~~ Г) Украина

10. Укажите самое большое по площади государство мира, не имеющее выхода к Мировому океану

- ✓ A) Монголия Б) Боливия ~~В) Казахстан~~ Г) Афганистан

11. Какая из перечисленных стран является членом АСЕАН?

- ✓ A) Новая Зеландия ~~Б) Индонезия~~ В) Индия Г) Нигерия

12. Примером рационального природопользования является:

- ✓ A) распашка целинных земель Б) создание терриконов вблизи шахт
✓ ~~В) создание лесополос в степной зоне~~ Г) сплавление леса по крупным рекам

13. Выберите характеристику, относящуюся к развитым странам

- A) высокие темпы роста населения
B) экспорт сырья, импорт продукции обрабатывающей промышленности и продовольствия

✓ В) преобладание в структуре ВВП сельского хозяйства

✓ ~~Г) низкие коэффициенты рождаемости и смертности~~

14. Какой фактор не оказывает влияние на развитие электрометаллургии?

- ✓ A) сырьевой Б) потребительский В) топливный ~~Г) транспортный~~

15. В странах Северной Европы наиболее распространено:

- ✓ A) католицизм ~~Б) протестантизм~~ В) буддизм Г) православие

16. Чили, Перу, Канада – ведущие в мире экспортеры:

- ✓ a) каменного угля ~~б) медных руд~~ в) природного газа г) нефти

17. Группа Российских туристов хочет своими глазами увидеть пролив Босфор, который является границей между Европой и Азией. Какую страну им необходимо посетить?

- ✓ A) Болгарию **Б**) Турцию В) Грузию Г) Сирию 1
- 18. Выберите правильное соответствие между озером и материком.**
- ✓ A) оз. Ильмень – Евразия 0
- Б) оз. Мичиган - Южная Америка
- ✓ B) оз. Титикака - Австралия 0
- Г) оз. Чад - Северная Америка
- 19. Какое соответствие «горная порода – ее тип» является верным?**
- ✓ A) мрамор — метаморфическая 0
- Б**) гранит - осадочная
- В) базальт - метаморфическая
- Г) известняк - магматическая
- ✓ **20. Какой масштаб крупнее:**
- A) 1: 5000 Б) 1:50000 **В**) 1: 50 Г) 1:5000000 1

Аналитический раунд

Задание 1.

У северо-западных берегов Европы расположена страна, которая занимает самый обширный из европейских архипелагов. Чаще всего эту страну называют по названию ее основной исторической части, хотя официально она носит иное название. Это высокоразвитое индустриальное государство, широко известное в современном мире и своей банковской, страховой и другой и другой коммерческой деятельностью.

- ✓ A) Что эта за страна? Англия 2 б.
- ✓ B) Каково ее официальное название? Великобритания (1)
- В) Назовите столицу этой страны и укажите название реки, на которой она расположена Лондон, р. Темза 2 + 2
- ✓ G) Укажите тип правления в этой стране Парламентская монархия 1

Задание 2.

Какая из республик РФ является самой:

- A) северной Кали 0
- ✓ B) южной Дагестан 2
- В) западной 0
- G) восточной Бурятия 0
- D) молодой Чеченская 0

Задание 3.

Распределите государства, являющиеся лидерами по производству:

A) Первичный алюминий	<u>Израиль, Мозамбик</u> 1
Б) Лекарственные препараты	<u>Швейцария, Испания</u> 1
В) Синтетические полимерные материалы	<u>ОАЭ, Саудовская Аравия</u> 2
Г) Металлическая медь	<u>Перу, Замбия</u> 2
Д) Швейные изделия	<u>Швейцария, Бангладеш, Камбоджа</u> 2

Страны: Бангладеш, Замбия, Израиль, Исландия, Камбоджа, ОАЭ, Мозамбик, Перу, Саудовская Аравия, Швейцария.